



**EVALUARE NAȚIONALĂ
LA FINALUL CLASEI a IV-a
2021**

MATEMATICĂ

Test 1

Județul/sectorul

Localitatea

Școala

Numele și prenumele elevei/elevului

.....

Clasa a IV-a

Băiat

Fată

Numeroși exploratori au realizat expediții geografice, care au condus la descoperirea de noi locuri și de rute de acces către acestea.

De asemenea, din veacul trecut, se cercetează adâncurile apelor și ale solului și se efectuează zboruri de cucerire a Cosmosului.

Rezolvă testul următor și vei afla informații despre marile expediții și despre conducătorii lor.

Succes!



I. NUMERE



Navigatorul genovez Cristofor Columb a descoperit America în anul 1492.
Cum se descompune numărul 1492 în mii, sute, zeci și unități?

Încercuiește litera corespunzătoare descompunerii corecte a acestui număr.



- A. $1\ 000 + 900 + 40 + 2$
- B. $1\ 000 + 400 + 90 + 2$
- C. $1\ 000 + 200 + 90 + 4$
- D. $1\ 000 + 400 + 20 + 9$

Nu se completează de către elev.

COD

1.



În anul MCCLXXI, venețianul Marco Polo a pornit într-o călătorie spre China.
Cum se scrie acest număr cu cifre arabe?

Încercuiește litera corespunzătoare acestui număr scris cu cifre arabe.



- A. 1269
- B. 1221
- C. 1271
- D. 1251

Nu se completează de către elev.

COD

2.



Lungimea Ecuatorului este de 40075 km.
Care sunt predecesorul și succesul numărului 40075?

Încercuiește litera corespunzătoare răspunsului corect.



- A. 40075 și 40076
- B. 40074 și 40075
- C. 40070 și 40080
- D. 40074 și 40076



Nu se completează de către elev.

COD

3.

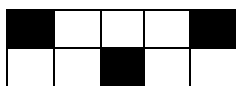


Pe o navă cu pânze care naviga pe ocean, trei zecimi din numărul marinarilor erau englezi.
Care este reprezentarea corectă a fracției trei zecimi?

Încercuiește litera corespunzătoare variantei corecte de răspuns.




A.



B.



C.



D.



Nu se completează de către elev.

COD

4.



În anul 1961, astronautul rus Iuri Gagarin a fost primul om care ajungea în spațiul cosmic.
Rotunjește, la ordinul sutelor, numărul 1961.

Încercuiește litera corespunzătoare variantei corecte de răspuns.



A. 2000

B. 1970

C. 1900

D. 1000

Nu se completează de către elev.

COD

5.

II. FIGURI GEOMETRICE ȘI MĂSURĂTORI



Cu ce corp geometric seamănă forma globului pământesc?

Încercuiește litera corespunzătoare corpului geometric respectiv.



- A. sferă
- B. cilindru
- C. con
- D. cub



Nu se completează de către elev.

COD

11.



Masa unei bărci pescărești poate fi măsurată în

Încercuiește litera corespunzătoare unității de măsură respective.



- A. metri
- B. ore
- C. kilograme
- D. litri

Nu se completează de către elev.

COD

12.



De ziua sa, Maria a primit un puzzle având ca tematică marii exploratori ai lumii. Ea a început construirea acestuia la ora 10:15 și l-a terminat după 180 de minute. La ce oră a terminat Maria construirea puzzle-ului?

Încercuiește litera corespunzătoare orei la care Maria a terminat construirea puzzle-ului.



- A. 13:00
- B. 13:15
- C. 13:30
- D. 14:15

Nu se completează de către elev.

COD

13.



Cristofor Columb a plecat în prima lui expediție la data de 3 august 1492. După șapte luni și două săptămâni, s-a reîntors în Spania, de unde plecase. În ce lună a anului următor s-a reîntors în Spania?

Încercuiește litera corespunzătoare răspunsului corect.



- A. februarie
- B. aprilie
- C. martie
- D. mai

Nu se completează de către elev.
COD

14.




Puzzle-ul realizat de Nina are forma unui pătrat cu latura de 78 cm, ca în imaginea de mai jos.

Câți centimetri are perimetrul puzzle-ului?



Rezolvă problema și scrie răspunsul pe spațiul punctat.

Redactează rezolvarea problemei aici.



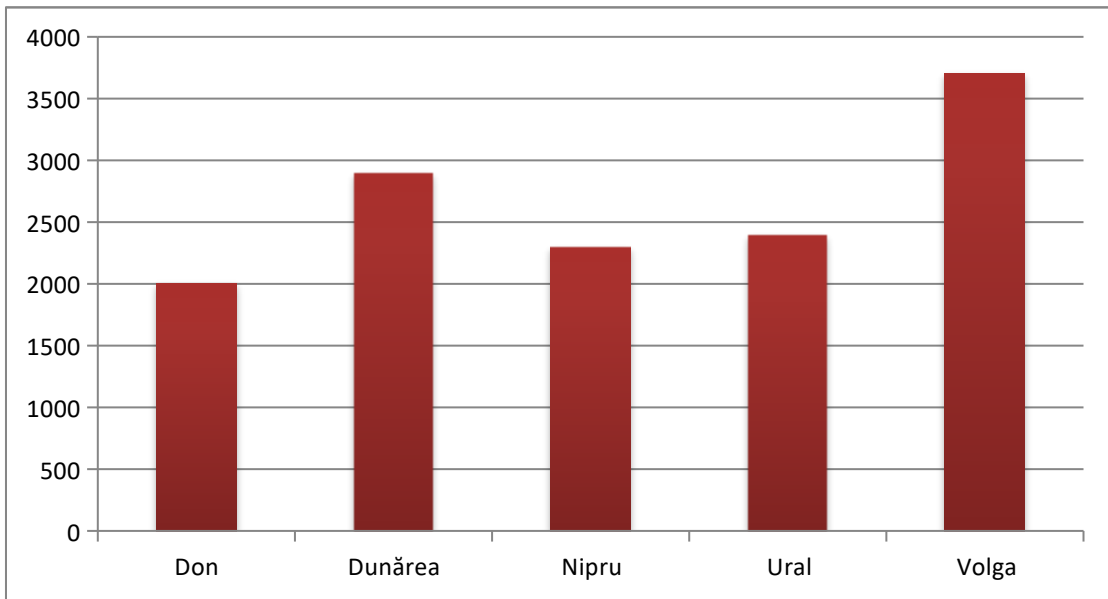
.....

Nu se completează de către elev.
COD

15.



Denumirile și lungimile aproximative, exprimate în kilometri, ale celor mai lungi fluvii din Europa sunt înregistrate în reprezentarea grafică de mai jos. Care sunt denumirile celor două fluvii cu cele mai mari lungimi?



Scrie, pe spațiul punctat de mai jos, denumirile celor două fluvii.



.....

Nu se completează de către elev.

COD

20.



FELICITĂRI, AI AJUNS LA SFÂRȘITUL TESTULUI!
MULȚUMIM PENTRU PARTICIPARE!

**După ce ai finalizat testul, dacă îți rămâne timp,
colorează această rachetă!**

