



# Scăderea cu 2 unitați


1. Scrie, apoi efectuează scăderile:



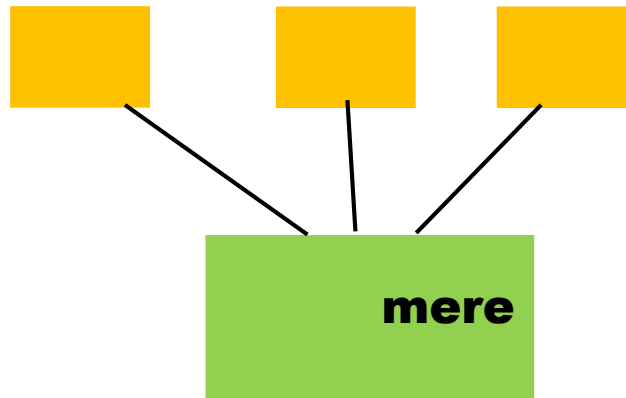
2. Completează spațiile cu numărul potrivit de elemente necesare pentru a exista în fiecare multime **5** elemente:



3. Află câți fluturi au rămas dacă 2 au zburat departe.



4. Ionel a strâns într-un coș mere de culori diferite. Scrie o adunare potrivită culorilor pentru a socoti câte mere a strâns Ionel în total.



5. Câte mere trebuie să cadă din măr pentru ca numărul celor de pe jos să fie egal cu cel al celor rămase în coroana pomului?



$$\square - \square = \square \text{ în pom}$$

$$\square + \square = \square \text{ pe jos}$$

Răspuns:

din pom trebuie să cadă     mere.

6. Observă imaginile și identifică numărul diferențelor:



3 diferente

5 diferente

4 diferente