

Scaderea cu 3 unitati

1. Numără elementele din chenar și completează schema selectând numărul corect pentru fiecare fel de animal:

5 ○ ○ ○ ○ ○
4 ○ ○ ○ ○ ○
3 ○ ○ ○ ○ ○
2 ○ ○ ○ ○ ○
1 ○ ○ ○ ○ ○

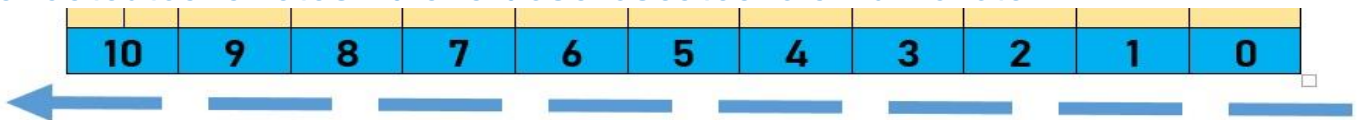
cat swan cow spider pig

mamicreativa.wixsite.com/website

2. Numără descrescător din 3 în 3 începând cu numărul:


$9 - 3 = \square$	$10 - 3 = \square$
$\square - 3 = \square$	$\square - 3 = \square$
$\square - 3 = \square$	$\square - 3 = 1$

3. Calculează folosind axa descrescătoare a numerelor:




$6 - 3 =$	$8 - 3 =$
$4 - 3 =$	$10 - 3 =$
$7 - 3 =$	$5 - 2 - 1 =$
$9 - 3 =$	$7 - 1 - 2 =$
$5 - 3 =$	$4 - 2 - 1 =$

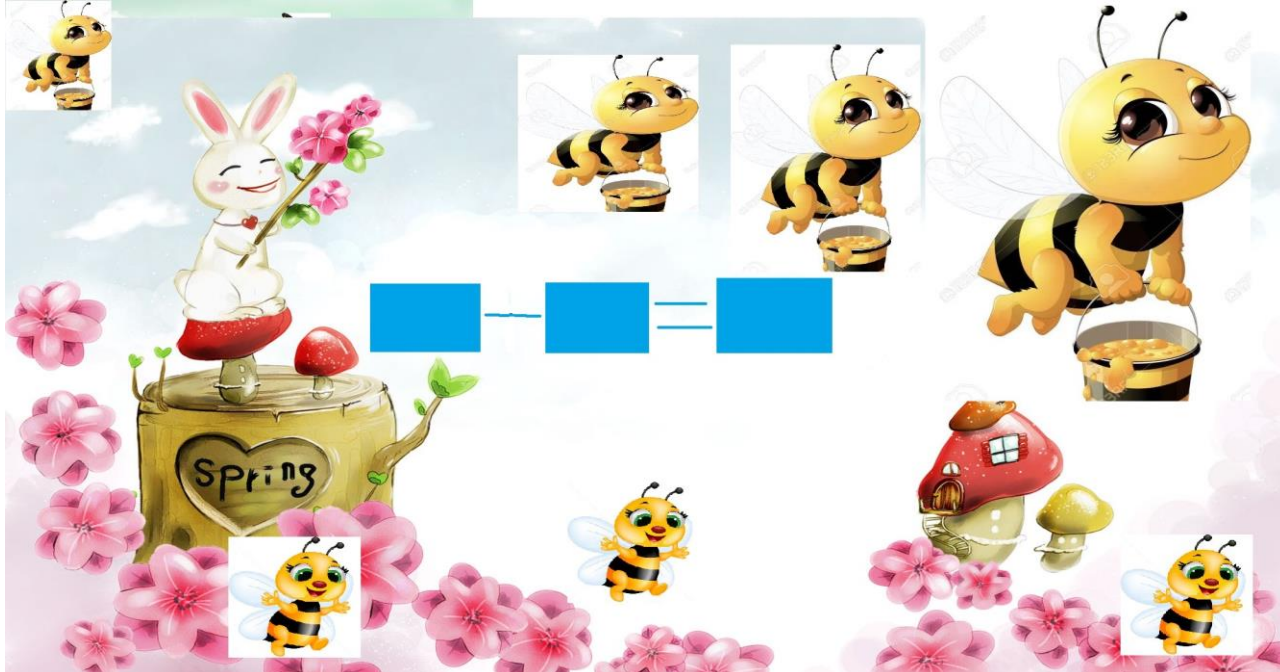
3. Câte mere ar rămâne pe fiecare pom dacă 3 mere ar cădea bătute de vânt?



4. Din ce număr trebuie să scad ca să obțin rezultatele date?



5. Câte albinuțe rămân la cules dacă 4 pleacă cu gălețile pline?





**Felicitări! Ai
ajuns la final!**