



MINISTERUL EDUCAȚIEI ȘI CERCETĂRII



CENTRUL NAȚIONAL DE POLITICI
ȘI EVALUARE ÎN EDUCAȚIE

EVALUAREA NAȚIONALĂ PENTRU ABSOLVENȚII CLASEI a VIII-a

Anul școlar 2020 - 2021

Matematică

- Toate subiectele sunt obligatorii.
- Se acordă zece puncte din oficiu.
- Timpul de lucru efectiv este de două ore.

SUBIECTUL I

Încercuiește litera corespunzătoare răspunsului corect.

(30 de puncte)

5p	<p>1. Cel mai mare divizor prim al numărului 154 este numărul:</p> <p>a) 2 b) 7 c) 11 d) 77</p> <div style="border: 1px solid black; height: 100px; width: 100%;"></div>
5p	<p>2. Se consideră numerele naturale $a = 5$ și $b = 11$. Raportul dintre numerele a și b are aceeași valoare cu raportul:</p> <p>a) $\frac{10}{11}$ b) $\frac{1}{2}$ c) $\frac{10}{22}$ d) $\frac{5}{22}$</p> <div style="border: 1px solid black; height: 100px; width: 100%;"></div>
5p	<p>3. Luni, temperatura măsurată la ora 10 , la o stație meteo a fost de -5°C , iar marți, la aceeași oră, au fost înregistrate -7°C . Diferența dintre temperatura înregistrată marți și cea înregistrată luni este egală cu:</p> <p>a) -9°C b) -2°C c) 6°C d) 9°C</p> <div style="border: 1px solid black; height: 100px; width: 100%;"></div>

5p 6. În tabelul următor sunt înregistrate punctajele obținute de elevii unei clase la un test de cultură generală:

Punctaj	40	50	60	70	80	90	100
Număr de elevi	2	4	5	2	4	2	1

Media aritmetică a punctajelor obținute de elevii participanți la test este:

a) 60,9
b) 66
c) 69,5
d) 69

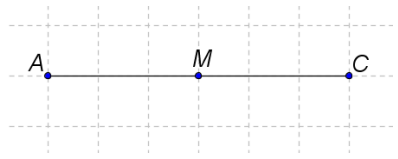
SUBIECTUL al II-lea

Încercuiește litera corespunzătoare răspunsului corect.

(30 de puncte)

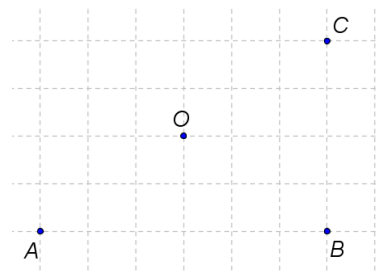
5p 1. În figura alăturată sunt reprezentate punctele A , M și C . Punctul C este simetricul punctului A față de punctul M . Dacă $AM = 3\text{cm}$, atunci segmentul CM are lungimea egală cu:

a) 3cm
b) 4cm
c) 6cm
d) 9cm




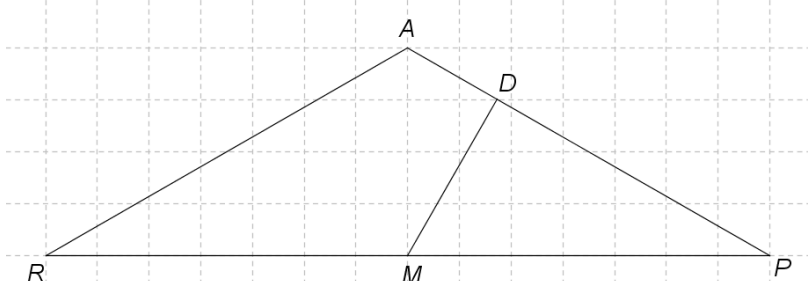
5p 2. În figura alăturată sunt reprezentate punctele A , B , C și O , astfel încât A , B și C sunt situate la distanțe egale față de punctul O , iar punctele A , O și C sunt coliniare. Măsura unghiului ABC este egală cu:

a) 120°
b) 90°
c) 60°
d) 30°




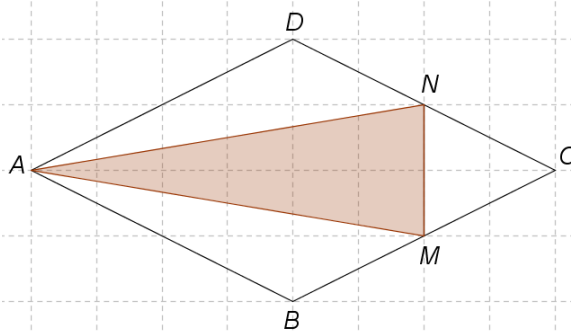
- 5p 3. Locuința Alinei, marcată pe schiță cu punctul A , este situată la distanțe egale față de locuințele celor doi colegi de clasă, Radu și Paul, marcate pe schiță cu punctele R , respectiv P . Radu pornește de acasă, spre Paul, pe drumul cel mai scurt. La jumătatea distanței, adică în punctul M , se hotărăște să se îndrepte spre șoseaua AP , parcurgând distanța cea mai scurtă. Ajuns la șosea, în punctul D , Radu află că până la locuința Alinei sunt 400m. La ce distanță se află locuința lui Paul față de punctul D , în care s-a oprit Radu, dacă măsura unghiului RAP este de 120° ?

- a) 400m
b) 800m
c) 1200m
d) 1600m



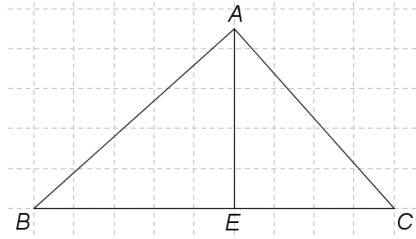
- 5p 4. În figura alăturată este reprezentată schița unei grădini de plante aromatice, în formă de romb $ABCD$. Suprafața hașurată, corespunzătoare triunghiului AMN , unde M și N sunt mijloacele laturilor BC , respectiv CD , este acoperită cu cimbru, iar restul suprafeței grădini este acoperită cu lavandă. Din aria totală a grădini, aria suprafeței acoperite cu cimbru reprezintă:

- a) $\frac{1}{2}$
b) $\frac{1}{3}$
c) $\frac{3}{8}$
d) $\frac{1}{5}$




5p


5. În figura alăturată este reprezentat triunghiul ABC dreptunghic în A . Notăm cu E proiecția punctului A pe dreapta BC . Lungimea laturii AC este de 6cm, iar lungimea segmentului EC este de 4cm.



(2p) a) Arată că $BC = 9\text{cm}$.





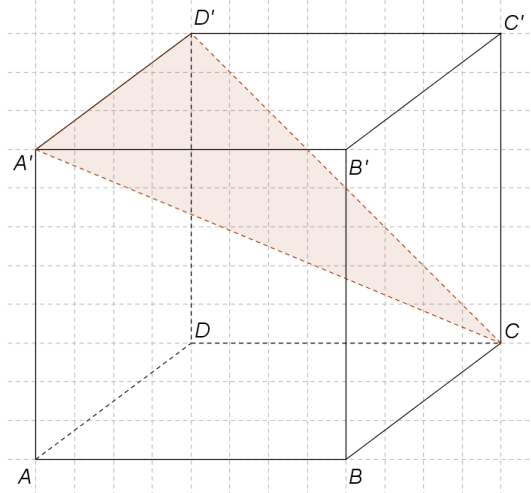
(3p) b) Demonstrează că perimetrul triunghiului ABC este mai mic decât 22 cm.




5p

6. Se consideră cubul $ABCD A' B' C' D'$. Distanța de la mijlocul unei diagonale a cubului la mijlocul unei diagonale a unei fețe laterale este de 50cm.

(2p) a) Câți litri de vopsea sunt necesari pentru a vopsi exteriorul cubului, știind că pentru a vopsi un metru pătrat este nevoie de 0,5 litri de vopsea?



(3p) b) Calculează distanța de la punctul A la planul $(A'D'C)$.



EVALUAREA NAȚIONALĂ PENTRU ABSOLVENȚII CLASEI a VIII-a
Anul școlar 2020 - 2021
Matematică

Model

BAREM DE EVALUARE ȘI DE NOTARE

- Se acordă zece puncte din oficiu. Nota finală se calculează prin împărțirea la zece a punctajului total acordat pentru lucrare.

SUBIECTUL I și SUBIECTUL al II-lea

- Se punctează doar rezultatul, astfel: pentru fiecare răspuns se acordă fie cinci puncte, fie zero puncte.
- Nu se acordă punctaje intermediare.

SUBIECTUL al III-lea

- Pentru orice soluție corectă, chiar dacă este diferită de cea din barem, se acordă punctajul corespunzător.
- Nu se acordă fracțiuni de punct, dar se pot acorda punctaje intermediare pentru rezolvări parțiale, în limitele punctajului indicat în barem.

SUBIECTUL I

(30 de puncte)

1.	c)	5p
2.	c)	5p
3.	b)	5p
4.	a)	5p
5.	d)	5p
6.	b)	5p

SUBIECTUL al II-lea

(30 de puncte)

1.	a)	5p
2.	b)	5p
3.	c)	5p
4.	c)	5p
5.	b)	5p
6.	c)	5p

SUBIECTUL al III-lea

(30 de puncte)

1.	a) Deoarece, dacă se așază câte doi elevi în bancă, un elev stă singur, numărul elevilor din clasă este impar Cum 14 nu este număr impar, deducem că nu este posibil ca în clasă să fie 14 elevi	1p 1p
	b) $2(x-3)+1=3(x-6)$, unde x este numărul de bănci din clasă $x=13$	2p 1p
2.	a) $x^2-7x+10=x^2-2x-5x+10=$ $=x(x-2)-5(x-2)=(x-2)(x-5)$, pentru orice număr real x	1p 1p
	b) $E(x)=\frac{2x-x^2-1}{2-x}:\frac{x(x^2-2x+1)}{(x-2)(x-5)}=$ $=\frac{x^2-2x+1}{x-2}\cdot\frac{(x-2)(x-5)}{x(x^2-2x+1)}=\frac{x-5}{x}$, pentru orice $x\in\mathbb{R}\setminus\{0,1,2,5\}$	1p 2p
3.	a) $f(6)=0$	1p
	$f(0)\cdot f(6)=0$	1p

	b) $OA = 6, OB = 6$ $AB = 6\sqrt{2}$, deci distanța de la punctul O la dreapta AB este egală cu $\frac{OA \cdot OB}{AB} = 3\sqrt{2}$	1p 2p
4.	a) $\triangle AMP \sim \triangle CDP \Rightarrow \frac{AM}{CD} = \frac{AP}{CP}$ $AP = 2\text{ cm}$, deci $CD = 12\text{ cm}$	1p 1p
	b) $CM = 4\sqrt{3}\text{ cm}$ $\mathcal{A}_{AMCD} = \frac{(AM + CD) \cdot CM}{2} = 32\sqrt{3}\text{ cm}^2$	1p 2p
5.	a) $\triangle ABC$ dreptunghic în A , $AE \perp BC$, $E \in BC$, deci $AC^2 = EC \cdot BC$ $6^2 = 4 \cdot BC \Rightarrow BC = 9\text{ cm}$	1p 1p
	b) $AB = 3\sqrt{5}\text{ cm}$ $P_{ABC} = 3(5 + \sqrt{5})\text{ cm}$ și, cum $3\sqrt{5} < 7$, obținem că $P_{\triangle ABC} < 22\text{ cm}$	1p 2p
6.	a) Muchia cubului este $100\text{ cm} = 1\text{ m}$ $\mathcal{A}_{totală} = 6\text{ m}^2$, deci pentru a vopsi exteriorul cubului sunt necesari $0,5 \cdot 6 = 3$ litri de vopsea	1p 1p
	b) $AQ \perp A'B$, unde Q este mijlocul lui $A'B$, $A'D' \perp (A'AB) \Rightarrow AQ \perp A'D'$ și, cum $A'D' \cap A'B = \{A'\}$ și $A'B \subset (A'D'C)$, obținem că $AQ = d(A, (A'D'C))$ $AQ = 50\sqrt{2}\text{ cm}$	2p 1p