



**EVALUAREA COMPETENȚELOR FUNDAMENTALE
LA FINALUL CLASEI a II-a
2019**

Test 1

MATEMATICĂ

Județul / sectorul.....

Localitatea.....

Școala.....

Numele și prenumele elevei / elevului.....


.....

Clasa a II-a.....

Băiat

Fată

5. Simona are 12 poze diferite și prezintă colegilor săi câte 3 poze în fiecare zi.
În câte zile reușește Simona să prezinte toate pozele?
Află rezultatul prin scăderea repetată a aceluiași număr.
Scrie, pe spațiul dat, rezolvarea problemei.



Nu se completează de către elev
COD

5.

6. Cu ce figură geometrică seamănă poza de mai jos?

Încercuiește litera corespunzătoare răspunsului corect.



- a) cerc;
- b) dreptunghi;
- c) pătrat;
- d) triunghi.

Nu se completează de către elev
COD

6.

7. Tudor a lucrat de la ora 11:00 până la ora 14:00.

Câte ore a lucrat Tudor?



Încercuiește litera corespunzătoare răspunsului corect.

- a) 3 ore;
- b) 4 ore;
- c) 14 ore;
- d) 25 ore.

Nu se completează de către elev
COD

7.

8. **Scrie, pe spațiul dat, numele figurilor geometrice de mai jos.**



Nu se completează de către elev
COD

8.



FELICITĂRI, AI AJUNS LA SFÂRȘITUL TESTULUI!

MULȚUMIM PENTRU PARTICIPARE!



**EVALUAREA COMPETENȚELOR FUNDAMENTALE
LA FINALUL CLASEI a II-a
2019**

Test 2

MATEMATICĂ

Județul / sectorul.....

Localitatea.....

Școala.....

Numele și prenumele elevei / elevului.....

.....

Clasa a II-a.....

Băiat

Fată

7. Radu a lucrat de la ora 12:00 până la ora 14:00.

Câte ore a lucrat Radu?




Încercuiește litera corespunzătoare răspunsului corect.

- a) 2 ore;
- b) 3 ore;
- c) 14 ore;
- d) 26 ore.

Nu se completează de către elev
COD

7.

8. **Scrive, în spațiul dat, numele figurilor geometrice de mai jos.**



Nu se completează de către elev
COD

8.



FELICITĂRI, AI AJUNS LA SFÂRȘITUL TESTULUI!

MULȚUMIM PENTRU PARTICIPARE!