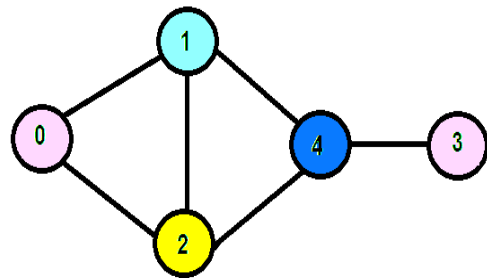


Test
Evaluare națională – MEM – clasa a II-a

1. Cu cifrele din imaginea alăturată, patru copii au scris numere, după cum urmează:

- A) **VLAD** a scris cel mai mare număr format din trei cifre pare distincte.
- B) **Aura** a scris cel mai mic număr format din trei cifre consecutive.
- C) **Robert** a scris cel mai mic număr impar format din trei cifre distincte.
- D) **Lorena** a scris cel mai mare număr par format din trei cifre distincte.



Copiii s-au așezat în ordinea crescătoare a numerelor scrise.

Încercuiește varianta corectă.

- A) Vlad, Aura, Robert, Lorena
- B) Aura, Vlad, Robert, Lorena
- C) Lorena, Vlad, Aura, Robert
- D) Robert, Aura, Vlad, Lorena



2. Copiii au scris numărul 658 sub formă de sumă, după cum urmează:

- A) Vlad: $600 + 50 + 8$
- B) Aura: $50 + 600 + 8$
- C) Robert: $8 + 50 + 600$
- D) Lorena: $600 + 5 + 80$

Care dintre ei a greșit?

Încercuiește varianta corespunzătoare.

- A) Lorena
- B) Aura
- C) Vlad
- D) Robert



3. Pentru a confecționa un semn de circulație, Lorena a tăiat un carton în forma din imagine. Apoi, a lipit pe marginile acestuia o panglică roșie de 60 cm lungime. Câți centimetri măsoară bucata de panglică lipită pe o singură latură, dacă toate laturile sunt egale între ele?

Încercuiește varianta corectă.

- A) 5 cm
- B) 10 cm
- C) 60 cm
- D) 9 cm



4. Pentru fiecare număr din coloana A, copiii au trebuit să efectueze aceeași operație ca să obțină numerele corespunzătoare din coloana B. Care dintre copii a efectuat operația corectă?

Încercuiește varianta corectă.

Coloana A	Coloana B
16	2
32	4
64	8
80	10

A) Robert : „Am scăzut 14 din fiecare număr din coloana A.”

B) Lorena: „Am adăugat 14 la fiecare număr din coloana A.”

C) Vlad: „Am înmulțit fiecare număr din coloana A cu 8.”

D) Aura: „Am împărțit fiecare număr din coloana A la 8.”

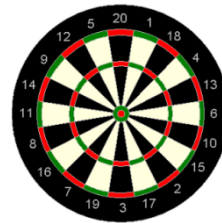


5. Robert și Vlad au jucat darts. Obiectivul jocului era de a obține, la sfârșitul jocului, cel mai mare număr total de puncte. Această diagramă arată cât de multe puncte au marcat.

Cine a câștigat cele mai multe puncte și cu cât?

Încercuiește varianta corectă.

	Robert	Vlad
Runda 1	73	100
Runda 2	85	64
Runda 3	68	37
Runda 4	50	50



A) Vlad a câștigat mai mult cu 25 de puncte

B) Vlad a câștigat mai mult cu 125 de puncte

C) Robert a câștigat mai mult cu 25 de puncte

D) Robert a câștigat mai mult cu 50 de puncte



6. Copii au jucat darts timp de 25 de minute. Ceasul arată ora la care ei au început jocul. La ce oră au terminat?

Încercuiește varianta corectă.

A) 10:00

B) 9:55

C) 9:30

D) 6:10



7. Cei patru copii pot mirosi un obiect într-un sac, dar nu îl pot vedea și nu îl pot pipăi. Care dintre următoarele afirmații este adevărată?

Încercuiește varianta corectă.



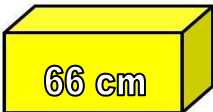



- A) Robert: "Este ceva ascuțit la un capăt și rotund la celălalt."
- B) Lorena: "Miroase a mentă."
- C) Vlad: "Are o denivelare pe ea."
- D) Aura: "Cred că este o minge."

8. La școală, copiii au aranjat corpurile geometrice în 5 cutii. Vlad a pus, pe un raft lung de 98 cm una dintre ele. Aceasta are lungimea de 32 cm. Care este cea mai lungă cutie, dintre cele rămase, pe care ar mai putea să o pună pe raft?

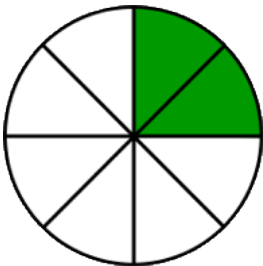
Încercuiește varianta corectă.



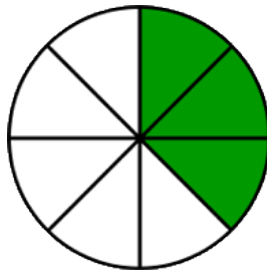
- A)  80 cm
- B)  36 cm
- C)  66 cm
- D)  98 cm

9. Cei patru copii au primit ca sarcină să deseneze câte un cerc și să coloreze un sfert din această figură geometrică. Care dintre ei au respectat sarcina în totalitate?

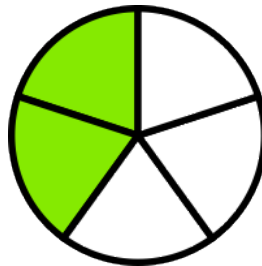
Încercuiește varianta corespunzătoare.



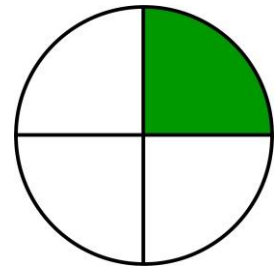
A) Lorena



B) Vlad



C) Robert



D) Aura



- A) Lorena și Vlad
- B) Vlad și Robert
- C) Lorena, Vlad și Robert
- D) Lorena și Aura

10. Fiecare dintre cei patru copii au măsurat lățimea sălii de clasă cu pașii. Ei și-au notat în tabel numărul pașilor făcuți.

A greșit vreunul dintre copii?

Lorena	9 pași
Aura	14 pași
Vlad	7 pași
Robert	10 pași



Explică, în spațiul dat, răspunsul tău.



Da, pentru că _____



Nu, deoarece _____

Ai ajuns la finalul
testului.



FELICITĂRI!

