

- ① *Toate subiectele sunt obligatorii.*
- ② *Timpul efectiv de lucru este de 50 de minute.*
- ③ *Cerințele vor fi citite de învățător.*


PUNCTAJ:

PREMIU:

NUME ELEV:

MENTOR/ȘCOALĂ :

- 1 Câte creioane sunt în imaginea de mai jos?










- A 1 B 3 C 4 D 2

- 2 Desenează în chenar tot atâția norișori câte degete ai la o mână. Ce număr putem completa sub mulțimea obținută?


A large, empty rounded rectangle with a green border, intended for the student to draw five clouds. Below the rectangle, there is a small empty square box for writing the number.

- A 1 B 3 C 5 D 10





3 Andrei a completat calendarul naturii pentru o săptămână, astfel:

LUNI	MARȚI	MIERCURI	JOI	VINERI	SÂMBĂȚĂ	DUMINICĂ
						


De cele mai multe ori a folosit simbolul:

- A  B  C  D 

4 Găsește ce nu se potrivește!


			
A	B	C	D

5 Câți brăduți trebuie să mai deseneze Ana pentru ca mulțimea să aibă 7 elemente?

	7
---	---

- A 3 B 4 C 7 D 1

6 Câte animale din imagine trăiesc în zonele polare?



A 2

B 5

C 1

D 6

7 Încercuiește numerele mai mari decât 2 și mai mici decât 7 din cele de mai jos. Câte numere ai încercuit?

0

4

9

1

5

3

8


A 3

B 4

C 7

D 2

8 Câte animale dintre cele de mai jos au 4 picioare?




A 2

B 3

C 4

D 5

9 Ioana are 2 globulețe verzi și 4 globulețe roșii. Câte globulețe are în total?



A 6

B 2

C 4

D 0