



**EVALUAREA COMPETENȚELOR FUNDAMENTALE
LA FINALUL CLASEI a II-a
2014**

Test 1

MATEMATICĂ

Județul / sectorul.....

Localitatea.....

Școala.....

Numele și prenumele elevei / elevului.....


.....

Clasa a II-a.....

Băiat

Fată

Elevii unei școli pregătesc o serbare de 1 Iunie. Ei au confecționat mai multe invitații în formă de flori, albinuțe, buburuze și fluturi, astfel:



142 de invitații



79 de invitații



100 de invitații



123 de invitații

1. Care este ordinea crescătoare a invitațiilor, în funcție de numărul lor?

Încercuiește litera corespunzătoare răspunsului corect.

- a) albinuțe, buburuze, fluturi, flori
- b) flori, albinuțe, buburuze, fluturi
- c) albinuțe, flori, fluturi, buburuze
- d) fluturi, flori, buburuze, albinuțe

Nu se completează de către elev
COD

1.

2. Fetele cred că numărul invitațiilor în formă de flori este mai mare, iar băieții spun că numărul celor în formă de fluturi este mai mare.

Scrive, pe spațiul dat, semnul potrivit (<, > sau =) între numărul invitațiilor în formă de flori și cel al invitațiilor în formă de fluturi pentru a arăta cine are dreptate.

142 123

Nu se completează de către elev
COD

2.

3. Care dintre operațiile de mai jos trebuie efectuată, pentru a afla câte invitații în formă de flori și în formă de fluturi au fost confecționate în total?

Încercuiește litera corespunzătoare răspunsului corect.

- a) $142 - 123$
- b) $142 + 100$
- c) $142 + 123$
- d) $142 - 79$

Nu se completează de către elev
COD

3.

4. Câte invitații în formă de albinuțe mai trebuie confecționate pentru ca numărul lor să fie egal cu numărul celor în formă de buburuze?

Încercuiește litera corespunzătoare răspunsului corect.

- a) 21 invitații
- b) 31 invitații
- c) 39 invitații
- d) 179 invitații

Nu se completează de către elev
COD

4.

5. Copiii au confecționat invitațiile timp de o săptămână și cinci zile. În câte zile au confecționat invitațiile?


Încercuiește litera corespunzătoare răspunsului corect.

- a) 11 zile
- b) 12 zile
- c) 13 zile
- d) 21 zile

Nu se completează de către elev
COD

5.

6. Elevii au așezat invitațiile ca în imaginea de mai jos:
Observă modelul și completează propoziția de sub imagine.



Următoarea invitație din imagine trebuie să fie sub formă de

Nu se completează de către elev
COD

6.

7. Diana a desenat o invitație în formă de floare. Ce figură geometrică a folosit pentru a desena mijlocul florii?

Încercuiește litera corespunzătoare răspunsului corect.

- a) un pătrat
- b) un dreptunghi
- c) un triunghi
- d) un cerc

Nu se completează de către elev
COD

7.

8. Ce formă au invitațiile confecționate în numărul cel mai mare?

Încercuiește litera corespunzătoare răspunsului corect.

- a) flori
- b) albinuțe
- c) buburuze
- d) fluturi

Nu se completează de către elev
COD

8.



**EVALUAREA COMPETENȚELOR FUNDAMENTALE
LA FINALUL CLASEI a II-a
2014**

Test 2

MATEMATICĂ

Județul / sectorul.....

Localitatea.....

Școala.....

Numele și prenumele elevei / elevului.....

.....

Clasa a II-a.....

Băiat

Fată

Elena, Ioana, Vlad și Andrei colecționează timbre.
Până acum, fiecare copil are un număr de timbre, astfel:

Elena



138 de timbre

Ioana



82 de timbre

Vlad



246 de timbre

Andrei



83 de timbre

1. Care este ordinea crescătoare a copiilor, în funcție de numărul de timbre colecționate?
Încercuiește litera corespunzătoare răspunsului corect.

- a) Vlad, Elena, Ioana, Andrei
- b) Ioana, Andrei, Elena, Vlad
- c) Andrei, Ioana, Elena, Vlad
- d) Ioana, Andrei, Vlad, Elena

Nu se completează de către elev
COD

1.

2. Ioana spune că numărul timbrelor sale este mai mare decât numărul timbrelor lui Andrei.
Scrive, pe spațiul dat, semnul potrivit (<, > sau =) între numărul timbrelor Ioanei și cel al timbrelor lui Andrei, pentru a arăta cine are dreptate.

82 83

Nu se completează de către elev
COD

2.

3. Care dintre operațiile de mai jos trebuie efectuată, pentru a afla câte timbre au colecționat împreună Vlad și Elena?

Încercuiește litera corespunzătoare răspunsului corect.

- a) $83 + 138$
- b) $246 + 138$
- c) $138 - 83$
- d) $246 - 138$

Nu se completează de către elev
COD

3.	<input type="text"/>
----	----------------------

4. Câte timbre trebuie să mai colecționeze Ioana pentru a avea 100 de timbre?

Încercuiește litera corespunzătoare răspunsului corect.

- a) 2 timbre
- b) 18 timbre
- c) 28 timbre
- d) 230 timbre

Nu se completează de către elev
COD

4.	<input type="text"/>
----	----------------------

5. Copiii au colecționat timbre timp de două săptămâni și patru zile. Câte zile au colecționat timbre?

Încercuiește litera corespunzătoare răspunsului corect.

- a) 11 zile
- b) 14 zile
- c) 16 zile
- d) 18 zile

Nu se completează de către elev
COD

5.	<input type="text"/>
----	----------------------

6. Ioana și-a așezat timbrele în album, ca în imaginea de mai jos:
Observă modelul și completează propoziția de sub imagine.



Următorul timbru din imagine trebuie să fie un timbru cu

Nu se completează de către elev
 COD

6.

7. Ce figură geometrică folosești pentru a desena timbrul de mai jos?
Încercuiește litera corespunzătoare răspunsului corect.



- a) un cerc
- b) un pătrat
- c) un triunghi
- d) un dreptunghi

Nu se completează de către elev
 COD

7.




8. Care dintre copii a colecționat mai mult de 150 de timbre?
Încercuiește litera corespunzătoare răspunsului corect.

- a) Elena
- b) Vlad
- c) Ioana
- d) Andrei

Nu se completează de către elev
 COD

8.

9. În tabel sunt trecute numerele timbrei Elenei. Numerele care lipsesc din tabel reprezintă timbrele ei preferate. Care sunt, în ordine crescătoare, numerele acestor timbre?
Încercuiește litera corespunzătoare răspunsului corect.

61		63	64
65	66	67	68
	70		72
73	74	75	76

- a) 62, 69 și 71
- b) 69, 71 și 62
- c) 71, 69 și 62
- d) 62, 71 și 69

Nu se completează de către elev
 COD

9.

