



**EVALUAREA COMPETENȚELOR FUNDAMENTALE
LA FINALUL CLASEI a II-a
2014**

MODEL 2

MATEMATICĂ

Județul / sectorul.....

Localitatea.....

Școala.....

Numele și prenumele elevei / elevului.....

.....

Clasa a II-a.....

Băiat

Fată

Radu și colegii săi au vizitat sera de flori unde lucrează mama lui Radu. De la seră s-au cules pentru florării 419 lalele, 360 de zambile, 306 garoafe și 277 de trandafiri.



419 lalele



360 de zambile



306 garoafe



277 de trandafiri

1. Care este ordinea crescătoare a florilor culese, în funcție de numărul lor?

Încercuiește litera corespunzătoare răspunsului corect.

- a) lalele, zambile, garoafe, trandafiri
- b) trandafiri, garoafe, zambile, lalele
- c) trandafiri, zambile, garoafe, lalele
- d) lalele, garoafe, zambile, trandafiri

Nu se completează de către elev

COD

1.

2. Radu crede că numărul zambilelor este mai mare decât numărul garoafelor.

Scrive semnul potrivit (<, > sau =) între numărul zambilelor și cel al garoafelor pentru a arăta dacă are dreptate.

360 306

Nu se completează de către elev

COD

2.

3. Care dintre operațiile de mai jos trebuie efectuată pentru a afla care este numărul total de lalele și de zambile culese?

Încercuiește litera corespunzătoare răspunsului corect.

- a) $419 + 306$
- b) $419 + 360$
- c) $419 - 306$
- d) $419 - 360$

Nu se completează de către elev
COD

3.	<input type="text"/>
----	----------------------

4. Câte garoafe ar mai trebui culese pentru ca numărul lor să fie egal cu numărul lalelelor?

Încercuiește litera corespunzătoare răspunsului corect.

- a) 13 garoafe
- b) 33 garoafe
- c) 103 garoafe
- d) 113 garoafe

Nu se completează de către elev
COD

4.	<input type="text"/>
----	----------------------

5. Mama lui Radu culege lalele timp de două săptămâni și o zi. Câte zile culege lalele mama lui Radu?

Încercuiește litera corespunzătoare răspunsului corect.



- a) 8 zile
- b) 14 zile
- c) 15 zile
- d) 16 zile

Nu se completează de către elev
COD

5.	<input type="text"/>
----	----------------------

6. Ajuns acasă, Radu îi face mamei sale o felicitare cu model de flori. Care sunt cele două flori cu care se continuă modelul?

Încercuiește litera corespunzătoare răspunsului corect.

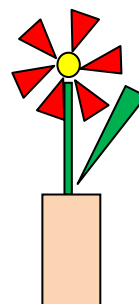


Nu se completează de către elev
COD

6.	<input type="text"/>
----	----------------------

7. Radu a desenat o floare într-o vază. Ce figură geometrică a folosit pentru a desena vaza?
Încercuiește litera corespunzătoare răspunsului corect.

- a) cerc
- b) pătrat
- c) triunghi
- d) dreptunghi



Nu se completează de către elev
 COD

7.

8. Radu și colegii săi au arătat, în tabelul de mai jos, ce flori de la seră le-au plăcut cel mai mult.

Scrive, în spațiul dat, răspunsul corect.

Lalele	😊😊😊😊😊😊😊😊😊😊😊😊
Zambile	😊😊😊😊😊😊😊😊😊😊
Garoafe	😊😊😊
Trandafiri	😊😊😊😊😊

Cele mai îndrăgite flori de către copii sunt

Nu se completează de către elev
 COD

8.

