

Județul/sectorul ..... Localitatea ..... Școala .....

Numele și prenumele elevului ..... /Clasa a IV-a .....

Băiat  Fată

### PROBĂ DE EVALUARE LA MATEMATICĂ

#### Varianta 2

1. Scrie în litere, pe spațiile punctate, numerele date.

- a) 9 325 .....;  
b) 16 018 .....;  
c) 395 460 .....

2. Descoperă regula, apoi scrie încă două numere în fiecare șir de mai jos:

- a) 107; 108; 109; \_\_\_\_; \_\_\_\_;                      b) 895; 897; 899; \_\_\_\_; \_\_\_\_;  
c) 885; 890; 895; \_\_\_\_; \_\_\_\_;                      d) 992; 995; 998; \_\_\_\_; \_\_\_\_.

3. Completează corespunzător tabelul:

RELAȚIA (în cuvinte)	CALCULUL MATEMATIC
a) de 5 ori mai mic decât 10	
b) cu 5 mai mult decât 10	
c) de 5 ori mai mare decât 10	
d) cu 5 mai puțin decât 10	

4. Pentru fiecare exercițiu, calculează rezultatul corect, apoi taie cu "X" răspunsurile greșite.

- a)  $125 + 452 =$   576    577    573    567  
b)  $638 + 315 =$   953    945    943    947  
c)  $482 - 302 =$   180    110    182    183  
d)  $907 - 705 =$   200    201    202    203

5. Completează spațiile punctate cu rezultatele corecte și efectuează proba pentru cele indicate:

a) $\begin{array}{r} 118 + \\ 453 \\ \hline \dots\dots \end{array}$	b) $\begin{array}{r} 385 + \\ 296 \\ \hline \dots\dots \end{array}$ → b) Proba <input type="text"/>	c) $\begin{array}{r} 620 - \\ 315 \\ \hline \dots\dots \end{array}$	d) $\begin{array}{r} 535 - \\ 279 \\ \hline \dots\dots \end{array}$ → d) Proba <input type="text"/>	
e) $\begin{array}{r} 25 \times \\ 3 \\ \hline \dots\dots \end{array}$	f) $\begin{array}{r} 45 \times \\ 8 \\ \hline \dots\dots \end{array}$ → f) Proba <input type="text"/>	g) $\begin{array}{r} 124 \times \\ 2 \\ \hline \dots\dots \end{array}$	h) $\begin{array}{r} 203 \times \\ 3 \\ \hline \dots\dots \end{array}$	i) $\begin{array}{r} 125 \times \\ 3 \\ \hline \dots\dots \end{array}$
j) $\begin{array}{r} 254 \times \\ 2 \\ \hline \dots\dots \end{array}$	k) $\begin{array}{r} 104 \times \\ 5 \\ \hline \dots\dots \end{array}$	l) $\begin{array}{r} 238 \times \\ 4 \\ \hline \dots\dots \end{array}$		

6. Efectuează pentru fiecare exercițiu calculul în scris:

a)  $96 : 3 =$       b)  $84 : 4 =$       c)  $91 : 7 =$       d)  $84 : 3 =$       e)  $85 : 8 =$

f)  $76 : 7 =$       g)  $537 : 3 =$       h)  $605 : 5 =$       i)  $790 : 6 =$       j)  $876 : 5 =$

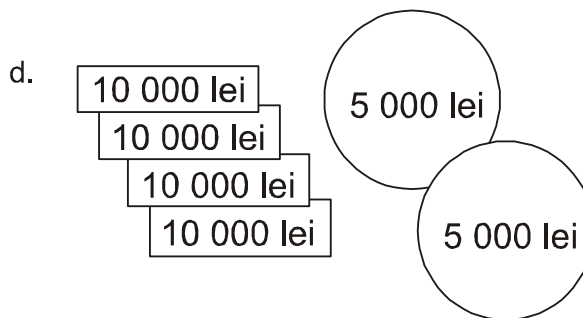
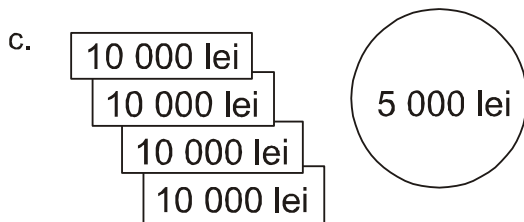
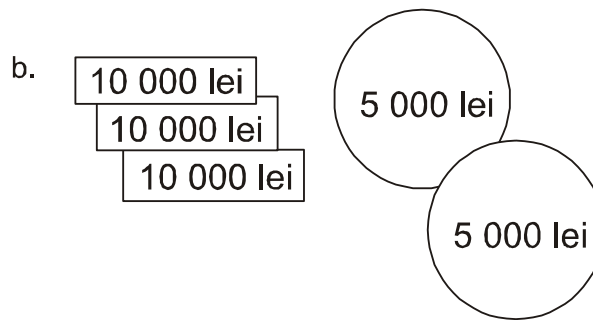
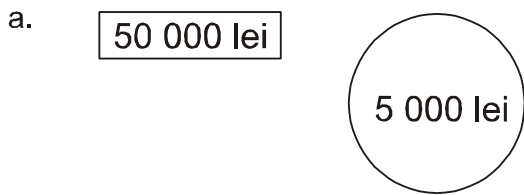
7. Scrie în caseta din dreptul fiecărui enunț "A" dacă enunțul este adevărat sau "F" dacă enunțul este fals.

- 1 – Un copil de 9 ani poate avea înălțimea de 9 m.
- 2 – O sticlă cu apă poate avea capacitatea de 2 l.
- 3 – Un iepure poate cântări 70 kg.



11. Gabriela a cumpărat o jucărie de 50.000 de lei.

Încercuiește litera corespunzătoare restului primit, dacă a plătit la casă cu o bancnotă de 100.000 de lei.



12. O carte are 256 de pagini. Mircea citește în prima zi 70 de pagini, a doua zi citește cu 28 de pagini mai mult, iar restul în a treia zi.  
Câte pagini citește Mircea în a treia zi?