

**Ministerul Educației, Cercetării,
Tineretului și Sportului**

EVALUAREA NAȚIONALĂ

Lucrarea conține pagini scrise.

Disciplina: **Matematică**
Sesiunea: **2013**

Numele:
Inițiala prenumelui tatălui:
Prenumele:
Școala de proveniență:
.....
.....
Loc. Jud.

Nume și prenume supraveghetori	Semnătura

	Nota obținută	Semnătura corectorului
CORECTOR I		

PROBĂ SCRISĂ

Subiecte pentru clasa a II-a

- Toate subiectele sunt obligatorii.
- Timpul de lucru este de 90 de minute
- Se poate începe rezolvarea cu oricare dintre subiectele de mai jos.

7. Află numărul necunoscut:

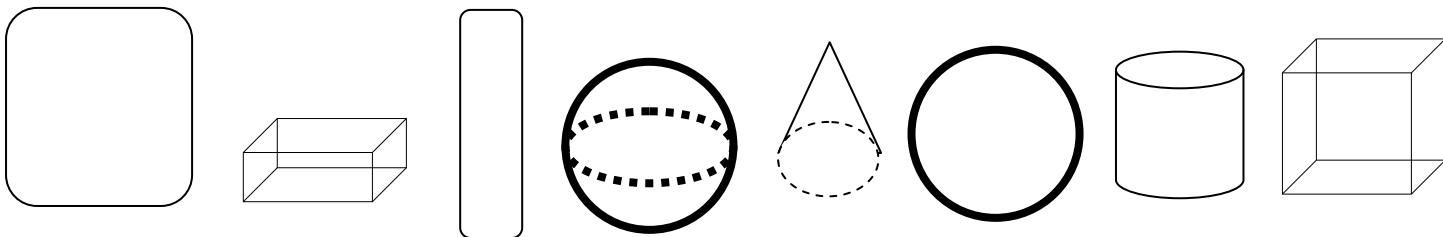
12 puncte

a	+	3	6	2	=	5	8	8		b	-	4	9	3	=	2	3	7		6	4	1	-	c	=	2	0	9	
a	=									b	=									c	=								
a	=									b	=									c	=								
V	:									V	:									V	:								

8. Scrie numărul care indică:

5 puncte

a) un cub b) o sferă c) un cilindru d) un cuboid e) un con



1 2 3 4 5 6 7 8

9. Completează:

5 puncte

1 oră = minute

1 săptămână = zile

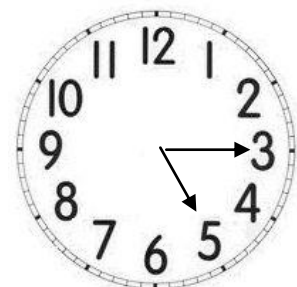
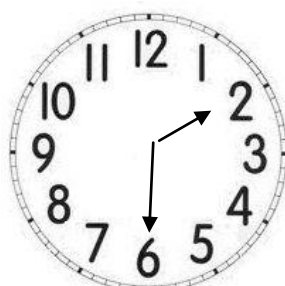

1 minut = secunde

1 an = luni

1 zi = ore


10. Scrie orele de pe ceas:

3 puncte



11. Notează numărul de figuri geometrice, de fiecare fel, din desenul de mai jos.

8 puncte



Pătrate	Cercuri	Triunghiuri	Dreptunghiuri

