

## **EVALUARE ÎN EDUCAȚIE LA MATEMATICĂ**

**Etapa a III-a – 12.05.2012 - Model**

### **Clasa I**

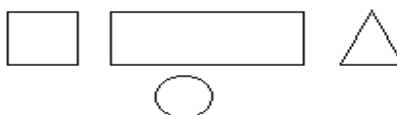
<b>Numele și Prenumele</b>	
<b>Școala</b>	

- Toate subiectele sunt obligatorii. Se acordă 10 puncte din oficiu.
- Timpul efectiv de lucru este de 50 de minute.

### **SUBIECTUL I (30 puncte)**

**Colorați/încercuiți răspunsul corect.**

**10p** | 1. Colorați figura situată în stânga dreptunghiului.



**10 p** | 2. Încercuiți segmentele așezate orizontal.



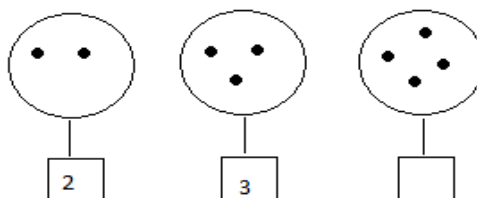
**10 p** | 3. Colorați figura cea mai mică.




### **SUBIECTUL II (30 puncte)**

**Completați conform cerințelor.**

**10 p** | 1. Completați pătrățelul cu cifra corespunzătoare.



- 10 p** 2. Desenați pe norișor picăturile de ploaie indicate de cifra de sub el, ca în model.



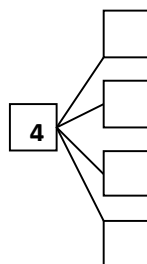
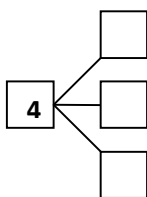
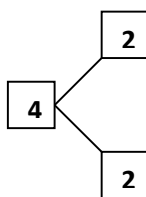
- 10 p** 3. Completați șirul cu încă un termen, respectând ordinea.






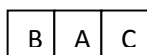
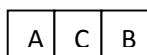
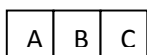
### SUBIECTUL III (30 puncte)

Scrieți rezolvările complete.

- 10 p** 1. Scrieți cifrele potrivite, în căsuțele goale.



- 15 p** 2. Completați căsuțele cu literele A, B și C, având grijă să nu repetați aceeași literă într-un set de căsuțe și să nu scrieți seturi identice.



- 5 p** 3. La o petrecere sunt 8 copii. Explicați de ce, cel puțin 2 dintre ei sunt născuți în aceeași zi a săptămânii.



**Punctaj total 100 puncte.**

**EVALUĂRI NAȚIONALE ÎN EDUCAȚIE**

© Copyright Fundația de Evaluare în Educație, 2008. Cod M.F.P. 14.13.20.99/2, C.I.F. 23033139



Ai terminat? Mai verifică o dată răspunsurile! Ai văzut că e ușor dacă știi?